

### I. PHÂN LÝ THUYẾT

**Câu 1 :** Trong phần mềm Ms Wlogo, để rùa hạ bút em thực hiện câu lệnh nào sau đây :

- A. RT
- B. PD
- C. FD
- D. LT

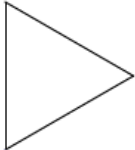

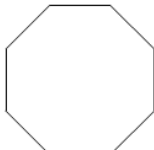
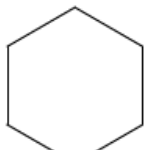
**Câu 2 :** Trong phần mềm Ms Wlogo, để rùa quay phải  $120^0$  em chọn câu lệnh nào sau đây :

- A. RT 120
- B. WAIT 120
- C. FD 120
- D. RT120

**Câu 3:** Cho câu lệnh lặp: Repeat n [các câu lệnh lặp], để vẽ hình Tam giác cạnh 100 bước em thực viết câu lệnh nào sau đây:

- A. REPEAT 4 [FD 100 RT 60]
- B. REPEAT 3 [FD 100, RT 120]
- C. REPEAT 3 [FD 100 RT 120]
- D. REPEAT 3 [FD 120 RT 100]

**Câu 4:** Trong phần mềm Ms Wlogo khi sử dụng câu lệnh : REPEAT 8 [FD 100 RT 45] em vẽ được hình nào sau đây :

- A. 
- B. 
- C. 
- D. 

**Câu 5:** Nối đúng các lệnh ở cột A tương ứng với ý nghĩa của chúng ở cột B:

#### Cột A

- 1. Fd 100
- 2. LT 120
- 3. PU
- 4. HT

#### Cột B

- A. Rùa nhấc bút
- B. Rùa hạ bút
- C. Rùa xoay trái 120 độ
- D. Rùa tiến tới 100 đơn vị

