


<b>UBND Q.HẢI CHÂU</b> <b>TRƯỜNG TH. PHÙ ĐỔNG</b> 	<b>ĐỀ SỐ 13</b> <b>BÀI ÔN TẬP MÔN TOÁN - LỚP 4.</b> Họ và tên HS:..... 4/.....
---	--

**Bài 1: Điền số thích hợp vào chỗ chấm:**

- |   |   |
|---|---|
| 1 giờ = .... phút   | 3 giờ 15 phút = ..... phút                    |
| 1 phút = ..... giây   | 1/3 phút = ..... giây                         |
| 1 thế kỉ = .... năm   | 1/5 thế kỉ = ..... năm                        |
| 1 m <sup>2</sup> = ..... dm <sup>2</sup>                    | 14 m <sup>2</sup> = ..... dm <sup>2</sup>     |
| 1 m <sup>2</sup> = ..... cm <sup>2</sup>                    | 12 m <sup>2</sup> = ..... cm <sup>2</sup>     |
| 3 m <sup>2</sup> 10 cm <sup>2</sup> = ..... dm <sup>2</sup> | 200 cm <sup>2</sup> = ..... dm <sup>2</sup>   |
| 150000 cm <sup>2</sup> = ..... dm <sup>2</sup>              | 150000 cm <sup>2</sup> = ..... m <sup>2</sup> |

**Bài 2: Đặt tính rồi tính:**

- |                |               |           |         |
|----------------|---------------|-----------|---------|
| 65 145 + 23768 | 98456 – 62378 | 345 x 408 | 3456:32 |
| .....          | .....         | .....     | .....   |
| .....          | .....         | .....     | .....   |
| .....          | .....         | .....     | .....   |
| .....          | .....         | .....     | .....   |
| .....          | .....         | .....     | .....   |

**Bài 3: Tìm x:**

- |                      |                 |                |
|----------------------|-----------------|----------------|
| $x \times 35 = 4480$ | $2025 : x = 75$ | $x : 28 = 103$ |
| .....                | .....           | .....          |
| .....                | .....           | .....          |
| .....                | .....           | .....          |

**Bài 4:** Hai thùng nước chứa được tất cả 580 lít nước. Thùng bé chứa ít hơn thùng to 120 lít. Hỏi mỗi thùng chứa bao nhiêu lít nước ?

Giải

.....


.....

.....

.....

.....

.....

<b>UBND Q.HẢI CHÂU</b> <b>TRƯỜNG TH. PHÙ ĐỔNG</b> 	<b>ĐỀ SỐ 14</b> <b>BÀI ÔN TẬP MÔN TOÁN - LỚP 4.</b> Họ và tên HS:..... 4/.....
---	--

**Bài 1:**Viết số thích hợp vào chỗ chấm:

1943 x 10 = .....	6953 x 100 = .....	2300 x 1000 = .....
4800 : 10 = .....	500400 : 100 = .....	8070000: 1000 = .....

**Bài2:** Đặt tính rồi tính:

384 x 60	3540 x 40	6253 x 200	2700 x 700
----------	-----------	------------	------------

.....  
 .....  
 .....

**Bài3:**Tính bằng cách thuận tiện nhất:

a) 265 x (25 + 5)	b) 12 x 156 - 12 x 56
-------------------	-----------------------

.....	.....
.....	.....
.....	.....


c) 17 x 513 - 17 x 10 - 17 x 3	d) 246 x 81 + 246 x 18 + 246
--------------------------------	------------------------------

.....	.....
.....	.....
.....	.....

**Bài4:**Một sân vườn hình chữ nhật có nửa chu vi là 142m. Chiều dài hơn chiều rộng 12m. Tính diện tích của sân vườn đó?

Giải

.....  
 .....  
 .....  
 .....  
 .....  
 .....  
 .....

<b>UBND Q.HẢI CHÂU</b> <b>TRƯỜNG TH. PHÙ ĐỔNG</b> 	<b>ĐỀ SỐ 13</b> <b>BÀI ÔN TẬP MÔN TIẾNG VIỆT - LỚP 4.</b> Họ và tên HS:..... 4/.....
---	--

**Bài 1: Nối từ ở cột A với nghĩa tương ứng ở cột B:**


A	B
a) Tự lập	1. Giữ gìn phẩm giá để người khác không coi thường
b) Tự trọng	2. Tự mình hiểu mà làm, không cần nhắc nhở, đốc thúc
c) Tự chủ	3. Tự xây dựng lấy cuộc sống cho mình, không nhờ vả, ỷ lại người khác
d) Tự giác	4. Chủ động, tự quản lí công việc của mình - bình tĩnh, biết kiểm chế, làm chủ được bản thân

**Bài 2: Chọn từ thích hợp em tìm được sau đây để điền vào chỗ trống cho mỗi câu sau:** (tự trọng, tự lực, tự giác, tự chủ, tự lập)

- Bố mẹ mất sớm, anh ấy sống ..... từ bé.
- Bác ấy giận quá, mặt bình tĩnh, không còn ..... được nữa.
- Cứ bảy giờ tối, bé Linh lại ..... ngồi vào bàn học bài không để phải nhắc nhở.
- Cô giáo khuyên chúng tôi phải chịu khó suy nghĩ, ..... làm bài.
- Hiệp luôn được cô giáo khen là là một học sinh có lòng .....

**Bài 3: Chọn các từ ghép sau để điền vào từng cột cho phù hợp:** tự tin, tự kiêu, tự hào, tự ái, tự chủ, tự trọng, tự ti, tự cao, tự phụ, tự giác, tự lực, tự vệ.

Từ chỉ hành động hoặc tính tốt	Từ chỉ hành động hoặc tính xấu
.....	.....
.....	.....
.....	.....
.....	.....

<b>UBND Q.HẢI CHÂU</b> <b>TRƯỜNG TH. PHÙ ĐỔNG</b> 	<b>ĐỀ SỐ 14</b> <b>BÀI ÔN TẬP MÔN TIẾNG VIỆT - LỚP 4.</b> Họ và tên HS:..... 4/.....
---	--

**Bài 1: Em hãy nhờ bố mẹ, người thân đọc hoặc tự đọc thầm từng cụm từ rồi viết thật cẩn thận vào vở nhé! Bài: *Bốn anh tài* (trang 4, SGK TV tập 2), viết từ *Đến một cánh đồng khô cạn..... đến diệt trừ yêu tinh.***

.....

.....

.....

.....

.....

.....

.....

.....

.....

.....

**Bài 2: Tìm và viết lại các danh từ riêng có trong bài chính tả em vừa viết nhé:**

.....

**Bài 3: Nối từng tiếng bên trái với tiếng thích hợp bên phải để tạo từ ngữ đúng:**

Rán	bánh
	mắt
Dán	mỡ
	điệp
Gián	Tem
	đoạn

**Bài 4: Tìm thêm một tiếng để tạo từ ngữ chứa các tiếng cùng có âm đầu l hoặc n:**

nóng .....	núng .....
..... lạnh	lênh .....
..... nê	lanh .....

